


Ejercicios Tácticos de Ajedrez #9

Sub1700 x equipos - Ronda 1

Encuentre el blunder:

¿Qué opción es un Blunder? ¿Por qué? Analice todas las opciones.

1.Barbarito,D – Bargas, D




18. Txd1 Tf8 19. f3 h6 20. Ce4 b6

Encuentre el Blunder:

a) Cg3 b) Rf2 c) Te1

2.Villareal,H – Quesada,R




21. Ce5 Cxe5 22. dxe5 Cf5

Encuentre el Blunder:

a) Dd3 b) Cf3 c) Axf5

3.Gonzalez,M – Dujmovic,O

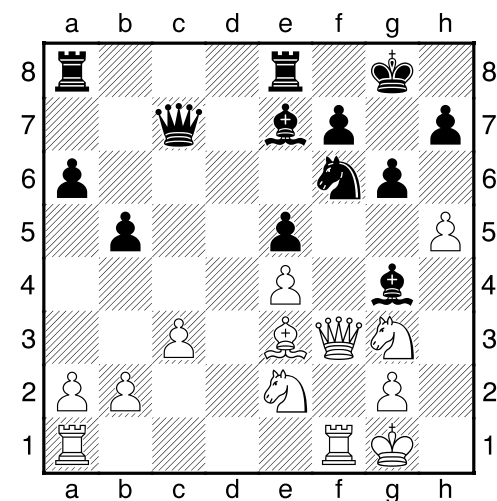


16...0-0 17.Dd1 Dd7 18.Dh5

Encuentre el Blunder:

a) ...De6 b) ...Tfe8 c) ...Rh8

4.Lapichello,P – Carboni,J




20.Df2 Ae6 21.hxg6 hxg6

Encuentre el Blunder:

a) b4 b) Df3 c) Ag5

5.Hernandez,S – Bracamonte,D



36...Rb6 37.Cd3 Ad6 38.Ag2

Encuentre el Blunder:

- a) ...Axh3 b) ...Tg8 c) ...Ab7

Respuestas

1.

21.Rf2 es el blunder porque **21...Axe4** gana el caballo. El peón esta clavado.

2.

23.Dd3 es el blunder porque **23...Ac5** amenaza el peón de e5 y libera a la dama para ir a h4.

3.

Hay 2 blunders. La única opción que no es blunder es **18...De6** ya que le da al Negro un tiempo extra. El Negro esta amenazando

19...Dxc4+ y además esta protegiendo (necesita un tiempo más) la casilla h6.

Si **18...Tfe8 19.Dh6 Dg4** (cualquier otra movida pierde) **20.Tg3** perdiendo la Dama..

Si **18...Rh8 19.Th3 Dxb3** (cualquier otra movida pierde) **20.gx3** perdiendo la Dama..

4.

22.Ag5 es un blunder porque **22...Cg4** gana pieza.

5.

Hay 2 blunders.

38...Tg8 pierde pieza: **39.Tc6+ Rb7 40.Txd6+**.

Y **38...Axh3** pierde el alfil automaticamente.

39.gxh3.

Partidas :

http://www.ajedrezcsm.com.ar/sub_1700_x_equi_pos.htm

Bajar más ejercicios tácticos:

<http://community.corest.com/~riq/chess.html>